

Ommetje Oostbroek-Zuid



= rechtsaf









= linksaf









= rechtdoor

ri. = richting











Bij ieder kruispunt, zijstraat, splitsing geeft Mowgli de richting aan.

Nr regel	opdracht	Route aanwijzing en vraag of opdracht van Mowgli	Ruimte voor antwoord
0	Start	Readshop ri Etos op de Dierenselaan	
1		Ri "Zon-dagen".	
2	Vraag/ opdracht	Pearl naast nr 174 . Door wie is deze winkel uitgeroepen tot beste winkelketen?	
3			
4	Vraag/ opdracht	Nr 81 . Welke stenen dieren zie je? Welke op een dakpan?	
5			
6	Vraag/ opdracht	Nr 46 . Welke kinderen werden vermoord in Auschwitz? Hoe oud waren zij?	
7			
8	nvt	nvt	
9	Vraag/ opdracht	Tel de verschillende schommels . Hoeveel en welke soorten zijn er?	
10			
11			
12	Vraag/ opdracht	Wie woonde er op nr 145 .	

Ommetje Oostbroek-Zuid








Nr regel	opdracht	Route aanwijzing en vraag of opdracht van Mowgli	Ruimte voor antwoord
13			
14	Vraag/ opdracht	Nr 21. Wie zeiden: ” It’s always good to be back at home “?	
15		Bij stoplicht voorzichtig ri. nr. 495.	
16	Vraag/ opdracht	Nr 505. Welke club is hier?	
17	Vraag/ opdracht	Nr 591. Bij deze winkel is het nog een beetje winter. Welke miniatuur gebouwen staan er en hoeveel?	
18			
19	Vraag/ opdracht	Nr 23. Hier tel je de niet helemaal ronde bloempotten?	
20			
21	Vraag/ opdracht	Nr 25. Deze ADO-fan heeft ...aantal? emblemen verzameld?	
22			
23	Vraag/ opdracht	In de nieuwe speeltu in zie je op de grond plaatjes van bloemen. Hoeveel kan je er tellen? Ook liggen er blaadjes. Hoeveel hebben een nummer?	
24		Ri 52	
25	Vraag/ opdracht	In dezelaan zie je Berkenbomen . Tel jij al die bomen?	
26	Vraag/ opdracht	Nr 131. Welke vorm hebben de 5 figuurtjes voor het raam?	

Ommetje Oostbroek-Zuid

Nr regel	opdracht	Route aanwijzing en vraag of opdracht van Mowgli	Ruimte voor antwoord
27			
28			
29	Vraag/ opdracht	Nr 938. Kan jij ontdekken hoeveel en welke diertjes om een schoen zitten? Hoeveel ridders zouden deze modellen aantrekken, als de maat groter was? Wat trokken zij aan?	
30			
31			
32			
33			
34	Vraag/ opdracht	Nr 85. Hoe noem je deze “machine”en waar is deze van gemaakt?	
35	Vraag/ opdracht	Nr 49. Weet jij welke dieren hier ‘wonen’en waar ze van gemaakt zijn?	
36			
37			
38		Op zebra ri. 57.	
39			

Ommetje Oostbroek-Zuid



Nr regel	opdracht	Route aanwijzing en vraag of opdracht van Mowgli	Ruimte voor antwoord
40	Vraag/ opdracht	Nr 86. Wat ligt er in de blauwe steen? Op 2 raamhangers staan 2 dezelfde voertuigen. Welke?	
41			
42			
43	Vraag/ opdracht	In het zand zie je stapstenen . Welke kleur hebben ze en hoeveel zijn het er?	
44		Ri. nr. 9 en “rekenles”.	
45	Vraag/ opdracht	Nr 9. Op de bankjes zitten stenen met een nummer. Hoeveel stenen zijn dat? Hoeveel nrs 1 zijn er? Extra rekenen? Wat is de som van de cijfers op ieder bankje en wat is het totaal van de cijfers op de bankjes?	
46	Vraag/ opdracht	Nr 21. Hoeveel trommels tel je achter de 3 etalageramen?	
47		Bij nr 21 ri. nr. 398.	
48			
49	Vraag	Nr 25. Welke beestjes ontdek je er?	
50		Ri. 241 !	
51	Vraag/ opdracht	Voor je La. gaat, kijk eerst ri. de school en het sportveld. Hoeveel olifanten kan je daar zien? Ga nu ri. 241 !	
52		Bij AH eindigt dit ommetje!!! We hopen dat jullie een leuk ommetje hebben gemaakt. Scouting Rustenburg.	