

# Ommetje Oostbroek-Noord








is linksaf = La








is rechtsaf=Ra








is Rechtdoor= Rd

NR regel/ vraag	Aanwijzing van Shanti Mowgli	Route aanwijzing Vraag van Shanti & Mowgli	Ruimte voor antwoord
0	Start	Start Zuiderparklaan 214 hoek Hoenderloostraat!!	
1			
2		Ben....str... links laten liggen !	
3			
4	Vraag/opdracht	Bij nr <b>154</b> . Welke kleur van het boekenkastje ?	
5			
6			
7	Vraag/opdracht	Bij nr <b>19</b> . Welke kinderfiguren op de ramen ?	






# Ommetje Oostbroek-Noord

8			
9			
10	Vraag/opdracht	Bij nr <b>30</b> . Welke rode vorm ?	
11	Vraag/opdracht	Bij nr <b>16</b> . Voor wie is die struikelsteen ? Wanneer is hij vermoord ?	
12	n.v.t.	n.v.t.	
13	Vraag/opdracht	Achter <b>geel hek</b> staan hoeveel poppetjes ?	
14		Bij kerk	
15	Vraag/opdracht	Aan hoeveel <b>kanten</b> van de kerktoren zie je een klok ? Bij nr <b>359</b> . hoeveel rond raampjes ?	
16	Vraag/opdracht	Bij nr <b>353</b> . Hoeveel vlinders ?	
17		Oversteken !	
18	Vraag/opdracht	Bij nr <b>328</b> . Wie woont in het huis “niets om voor te sterven” ?	
19	Vraag/opdracht	Bij/t.o. nr <b>322</b> staat een bruin boeken.....?	
20	Vraag/opdracht	Bij nr <b>298</b> . Welke gezondheidswerkers werken hier ?	
21			




# Ommetje Oostbroek-Noord

22		Oversteken !	
23	Vraag/opdracht	Bij nr 72. Hoeveel en welke dieren hangen aan de gevel/muur ?	
24			
25	Vraag/opdracht	Bij “ <b>All 4 kids</b> ” staan voor ‘n raam 4 en 3 woongebouwen ! Welk soort ? Welke voertuigen ? Soort en aantal voertuigen ?	
26			
27	Vraag/opdracht	Bij nr 1. Hoeveel kiezen zie je op de ramen ?	
28	Vraag/opdracht	In het <b>plantsoen</b> in het midden staat een aantal bomen met steunpaaltje ! Hoeveel bomen ?	
29		Bij zebra drukke weg en trambaan voorzichtig oversteken !!	
30	Vraag/opdracht	In het <b>plantsoen</b> in het midden staan aantal bomen zonder steunpaaltje. Hoeveel bomen ?	
31			
32	Vraag/opdracht	In <b>middenberm</b> . Hoeveel zwarte ronde stenen ?	
33	Vraag/opdracht	Bij nr 33. Hoeveel Nijntjes ?	
34	Vraag/opdracht	Bij nr 31. Welke en hoeveel voertuigen ?	
35	n.v.t.	n.v.t.	

# Ommetje Oostbroek-Noord

36	Vraag/opdracht	Op hoek bij nr <b>20</b> zie je hoeveel gele bordjes met “wegsleep” en met “dag & nacht”?	
37			
38			
39	Vraag/opdracht	Bij nr <b>141</b> . Aantal en welke dieren ?	
40			
41	Vraag/opdracht	Bij nr <b>205</b> . Hoe oud werd De la Rey ? Wie of wat was hij ?	
42	Vraag/opdracht	Bij nr <b>3</b> . Aantal en kleur van de bloempotten ?	
43	Vraag/opdracht	Bij nr <b>10</b> . Aantal en soort wilde dieren ?	
44	n.v.t.	N.v.t.	
45			
46	Vraag/opdracht	T.o. nr <b>133</b> . Hoeveel (fiets)nietsjes op de stoep ?	
47			
48	Vraag/opdracht	Bij nr <b>103</b> . Tel de plaatjes/kaart met gerechten ?	

# Ommetje Oostbroek-Noord

49			
50	Vraag/opdracht	Bij nr <b>37</b> . Naam van het huis? Hoeveel ramen met ronde punt ?	
51	Vraag/opdracht	Na nr <b>26</b> / bij nr <b>120</b> . Hoeveel en welke machines ?	
52			
53	Vraag/opdracht	Bij nr <b>29</b> . De naam en welk dier is op de deur afgebeeld ?	
54			
55	Vraag/opdracht	Bij nr <b>242</b> . Hoeveel kruizen zie je daar ?	
56	einde	<b>Einde</b> . Shanti gaat weer naar het mensendorp en hoopt dat je een leuke tocht hebt gemaakt !!	